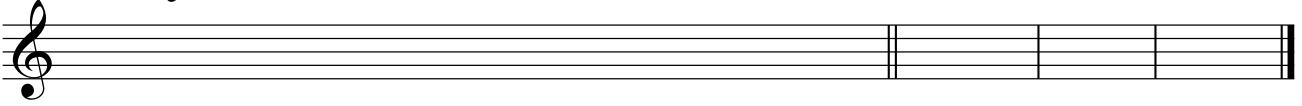


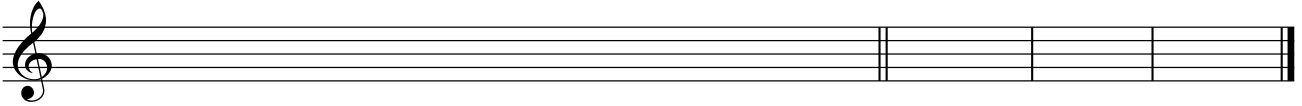
Grados modales - 1

1. Realiza las siguientes escalas y escribe a la derecha los grados modales de cada una de ellas.

Sol Mayor

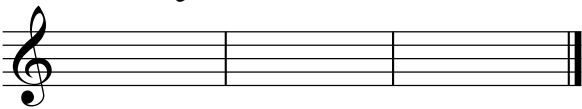


Sol Menor

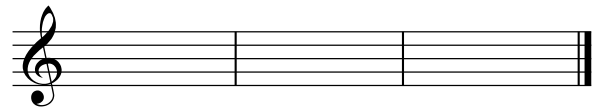


2. Escribe los grados modales de las siguientes tonalidades.

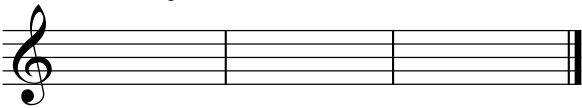
Do Mayor



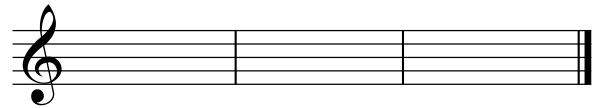
Do menor



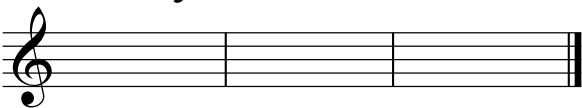
La Mayor



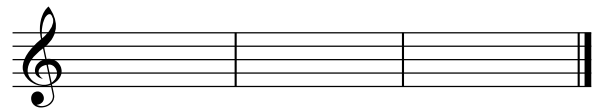
La menor



Re Mayor




Re menor



3. ¿Cuál es el nombre de los grados escritos de estas escalas?

Sol mayor



Re mayor



La menor



Mi menor

