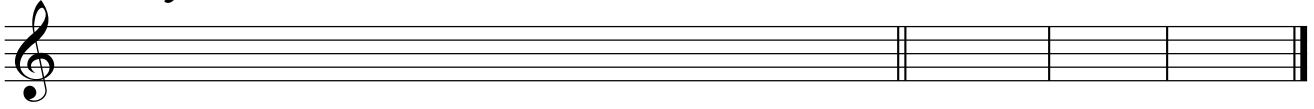


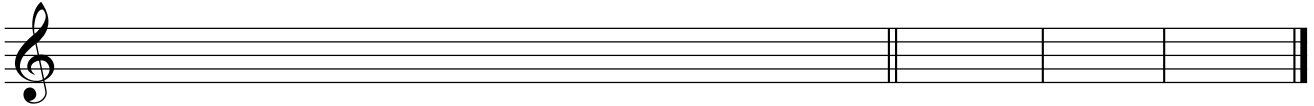
Grados modales - 2

1. Realiza las siguientes escalas y escribe a la derecha los grados modales de cada una de ellas.

Re Mayor

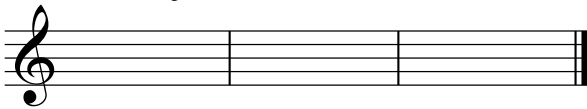


Re Menor

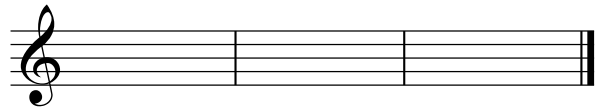


2. Escribe los grados modales de las siguientes tonalidades.

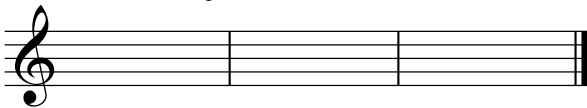
La Mayor



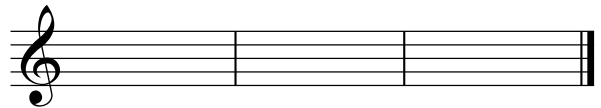
Re menor




Mi b Mayor




Si menor



Mi Mayor



Sol menor



3. ¿Cuál es el nombre de los grados escritos de estas escalas?

La mayor



Fa menor



Mi b mayor



Do # menor

