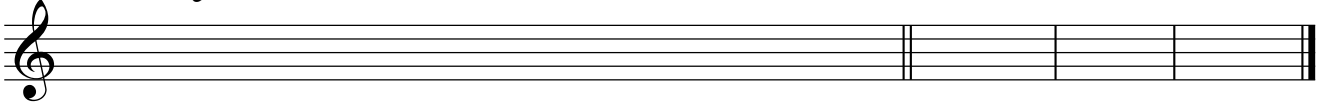


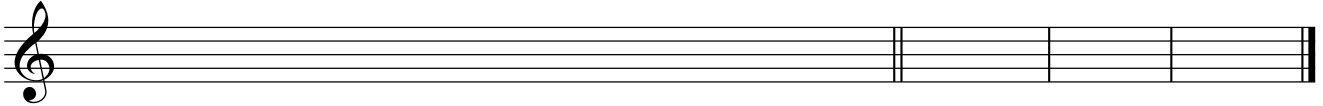
# Grados modales - 3

1. Realiza las siguientes escalas y escribe a la derecha los grados modales de cada una de ellas.

*Mi b Mayor*

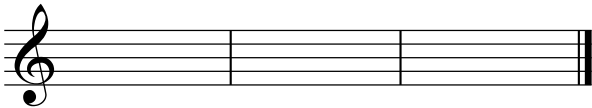


*Mi b Menor*

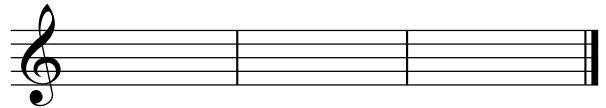


2. Escribe los grados modales de las siguientes tonalidades.

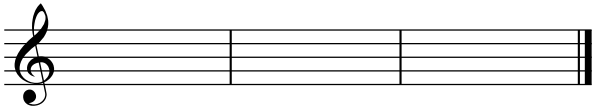
*Do # Mayor*



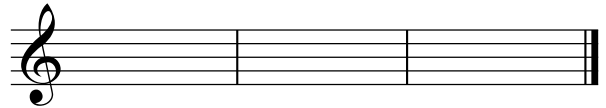
*Si b menor*



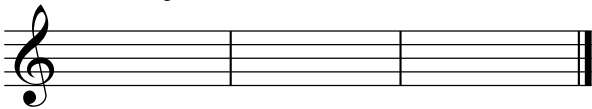
*La b Mayor*



*Sol # menor*



*Si Mayor*



*Si menor*



3. ¿Cuál es el nombre de los grados escritos de estas escalas?

*Si b mayor*



*Mi mayor*



*La b menor*



*Re # menor*

