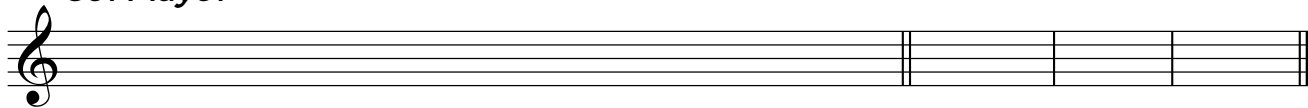



Grados tonales - 1

1. Realiza las siguientes escalas y escribe a la derecha los grados tonales de cada una de ellas.

Sol Mayor




Sol Menor




2. Escribe los grados tonales de las siguientes tonalidades.


Do Mayor




Do menor




La Mayor




La menor



Re Mayor



Re menor




3. ¿Cuál es el nombre de los grados escritos de estas escalas?

Sol mayor



La menor



Re mayor



Mi menor

