


INTERVALOS (tipos) - 1

1. Realiza intervalos ascendentes o descendentes según se indica.




A D D A A D

2. Di si los siguientes intervallos son ascendentes (A) o descendentes (D).




3. Realiza intervallos conjuntos o disjuntos según se indica.




Conj. Disj. Disj. Conj. Disj. Conj.

4. Di si los siguientes intervallos son conjuntos (Conj.) o disjuntos (Disj.).




5. Realiza intervallos melódicos o armónicos según se indica.




Mel. Arm. Mel. Mel. Arm. Arm.

6. Di si los siguientes intervallos son melódicos (Mel.) o armónicos (Arm.).



7. Di si los siguientes intervallos son de 2ª, 3ª, 4ª, etc.



7. Coloca las 2ª nota de cada intervalo para que sean de:



4ª asc. 3ª desc. 5ª asc. 8ª asc. 2ª asc. 7ª desc.