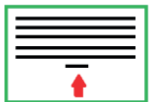






RESUMEN – NIVEL 1 - 6

1. Relaciona cada cuadro de la derecha con su nombre en la izquierda.

REGULADOR	
COMILLA de RESPIRACIÓN	
SILENCIO DE BLANCA	
LÍNEA ADICIONAL	
SILENCIO DE REDONDA	

2. Escribe el nombre de todos los elementos de esta partitura señalados por una flecha.

Allegro ♩ = 120



1	6
2	7
3	8
4	9
5	10