
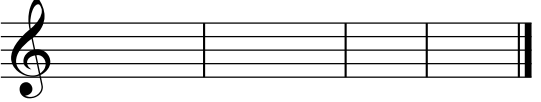







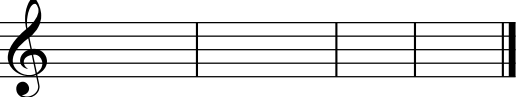
Transporte - 2

1. Transporta estas escalas menores naturales el intervalo que se indica.

 *2ª mayor ascendente* 

 *3ª mayor descendente* 

 *4ª justa descendente* 

 *2ª menor descendente* 

2. Escribe la tonalidad original y la tonalidad resultante del transporte indicado dibujando su armadura.

----- Transporte: 2ª mayor ascendente -----

----- Transporte: 2ª menor descendente -----

----- Transporte: 3ª mayor ascendente -----

